

中學生通訊解題第四十七期題目參考解答與評註

臺北市立建國高級中學 數學科

問題編號
4701

設對於任何整數 x 而言， $ax^3 + bx^2 + cx + d$ 都能被 5 整除，試問 a, b, c, d 中有哪些能被 5 整除？

參考解答：

令 $x = 0, 1, -1, 2$ 代入得

d 能被 5 整除

$a + b + c + d$ 能被 5 整除

$-a + b - c + d$ 能被 5 整除

$8a + 4b + 2c + d$ 能被 5 整除

由上可得

$a + b + c$ 能被 5 整除

$-a + b + c$ 能被 5 整除

$3a + 4b + 2c$ 能被 5 整除

又得 $2b$ 能被 5 整除，即 b 能被 5 整除

故 $a + c$ 能被 5 整除

$3a + 2c$ 能被 5 整除

得 a 能被 5 整除

c 能被 5 整除

解題評析：

本題主要是代特殊數值，使能一一證明 a, b, c, d 皆為 5 的倍數。

問題編號
4702

有 2006 個盒子，每個盒子均放入 1 個球，球的顏色可能是白色或是黑色，且已知這 2006 個球共有偶數個白球。現允許你指著 2 個盒子詢問：「它們中是否至少有 1 個放的是白球？」，試問：最少需要詢問幾次，你就可以確定出 2 個盒子中放的都是白球。

參考解答：

4009 次。

將盒子編號為 $1, 2, \dots, 2006$ ，

- (1) 我們先證明詢問 4009 次後，可以確定哪 2 個盒中是白球：依次詢問 $(1, 2)$ 、 $(1, 3)$ 、 \dots 、 $(1, 2006)$ 、 $(2, 3)$ 、 $(2, 4)$ 、 \dots 、 $(2, 2006)$ 。
- ① 如果答案都是肯定的，則 1 號球與 2 號球都是白色的（原因是若 1 號球是黑色的，因這 2006 個球有偶數個白球，那麼就可以找到 1 個黑球與 1 號黑球配成一對，使得詢問的問題答案是否定的）
- ② 如果答案中至少有一個是否定的（不妨假設是包含 1 號球的問題），那麼 1 號球是黑色的，此時 $(1, 2)$ 、 $(1, 3)$ 、 \dots 、 $(1, 2006)$ 的詢問中，凡是答

案是肯定的，則另一個必為白色的，如此一來，我們可以找到所有的白球。

(2) 其次證明，不能少於 4009 次的詢問：假設存在某種方案可以用更少的詢問來確保一定可以找到 2 個白球，此時最多在 4008 次的詢問之後，我們就必須指出哪 2 個是白球，不妨假設指出的是 1 號球與 2 號球為白色的。但因為只詢問了 4008 次，則必有形如(1,n)或(2,n)沒有詢問到，假設是(1,k)沒有詢問到，今假如在 1 號與 k 號盒子中放的是黑球，其他所有的盒子均放白球，那麼之前所問的 4008 個詢問答案全都是肯定的，但是所指的 1 號球與 2 號球為白色是錯誤的。

解題評註：

回答這題的同學基本上都誤會了題意，或是用了下面的方法：

- ① 先檢驗 (1,2)、(3,4)、(5,6)、...、(2005,2006)
- ② 上述問題的答案最少有兩組是肯定的（若只有一組，則可那組的兩球均是白色的；當然也有可能這 1003 組的答案均是肯定的），不妨假設(1,2)至少有一個是白球，(3,4)至少有一個是白球。同學以為再檢驗(1,3)、(1,4)、(2,3)、(2,4)即可確認哪 2 球是白色。

事實上，在①的檢驗中答案是肯定的可能有 1~1003 組，②的討論中若確定只有 2 組是肯定的（其他 1001 組是否定的），

那麼這檢驗是有意義的。舉下列例子：

- (A) 編號 1 與編號 95 是黑球其餘是白球
 (B) 編號 2 與編號 95 是黑球其餘是白球
 (C) 編號 3 與編號 95 是黑球其餘是白球
 (D) 編號 4 與編號 95 是黑球其餘是白球

在①的檢驗中上述 4 種情形答案均有 1003 組是肯定的，此時要選哪一組繼續檢驗呢？當你選擇(1,2)、(3,4)檢驗以為可以得到結論時，可是就算你檢驗完(1,3)、(1,4)、(2,3)、(2,4)後發覺，這些檢驗答案均是肯定的，但是哪兩個是白色的呢？這是幾乎所有回答這題的同學一起的盲點。

問題編號
4703

$$a, b, c, d \in N, 1 \leq a \leq b \leq c \leq d \leq 20,$$

$$b - a > 2, c - b > 2, d - c > 2$$

(a, b, c, d) 共有幾組解？

參考解答：

可視為方程式

$$(\square_0) + a + (\square_1) + b + (\square_2) + c + (\square_3) + d + (\square_4) = 20,$$

而 $(\square_0), a, (\square_1), b, (\square_2), c, (\square_3), d, (\square_4)$ 皆為火柴棒，共有 20 根，其中

$$(\square_0) \geq 0, a = 1, (\square_1) \geq 2, b = 1, (\square_2) \geq 2, c = 1,$$

$$(\square_3) \geq 2, d = 1, (\square_4) \geq 0$$

$$\therefore (\square_0) + (\square_1) + (\square_2) + (\square_3) + (\square_4) = 16$$

$$\Rightarrow (\square_0) + (\square_1)' + (\square_2)' + (\square_3)' + (\square_4) = 16 - 6 = 10$$

$$10 + 0 + 0 + 0 + 0 \rightarrow (5), 9 + 1 + 0 + 0 + 0 \rightarrow \frac{5!}{3!} = 20,$$

$$8+2+0+0+0 \rightarrow \frac{5!}{3!} = 20,$$

$$8+1+1+0+0 \rightarrow \frac{5!}{2!2!} = 30,$$

$$73000 \rightarrow \frac{5!}{3!} = 20, 72100 \rightarrow \frac{5!}{2!} = 60,$$

$$71110 \rightarrow \frac{5!}{3!} = 20, 64000 \rightarrow \frac{5!}{3!} = 20,$$

$$63100 \rightarrow \frac{5!}{2!} = 60, 62200 \rightarrow \frac{5!}{2!2!} = 30,$$

$$62110 \rightarrow \frac{5!}{2!} = 60, 61111 \rightarrow 5,$$

$$55000 \rightarrow \frac{5!}{3!2!} = 10, 54100 \rightarrow \frac{5!}{2!} = 60,$$

$$53200 \rightarrow 60, 53110 \rightarrow 60, 52210 \rightarrow 60,$$

$$52111 \rightarrow 20, 44200 \rightarrow 30, 44110 \rightarrow 30,$$

$$43300 \rightarrow 30, 43210 \rightarrow 120, 43111 \rightarrow 20,$$

$$42220 \rightarrow 20, 42211 \rightarrow 30, 33310 \rightarrow 20,$$

$$33220 \rightarrow 30, 33211 \rightarrow 30, 32221 \rightarrow 20,$$

$$22222 \rightarrow 1$$

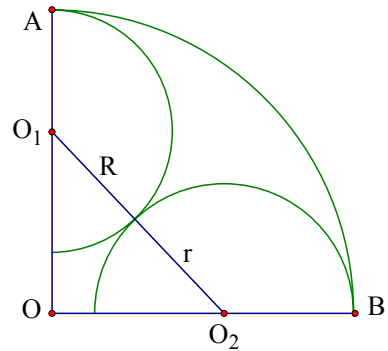
$$\therefore \text{共有 } H_{10}^5 = C_{10}^{14} = C_4^{14} = \frac{14 \cdot 13 \cdot 12 \cdot 11}{24} = 1001$$

問題編號
4704

扇形 OAB 是單位圓的四分之一，半圓 O_1 的圓心 O_1 在 OA 上，並與 \widehat{AB} 內切於點 A ，半圓 O_2 的圓心 O_2 在 OB 上，並與 \widehat{AB} 內切於點 B ，半圓 O_1 與半圓 O_2 相外切，設兩圓的半徑和為 x ，面積之和為 y ：

(1) 求 x 與 y 的關係；

(2) 求 y 的最小值。



參考解答：

(1) 因 $\overline{OO_1} = 1 - R, \overline{OO_2} = 1 - r,$

$$\text{得 } (1-r)^2 + (1-R)^2 = (R+r)^2$$

$$\Rightarrow Rr + R + r = 1$$

$$\Rightarrow Rr = 1 - x$$

$$\text{故 } y = \frac{1}{2} \pi (R^2 + r^2) = \frac{1}{2} \pi ((R+r)^2 - 2Rr)$$

$$= \frac{1}{2} \pi (x^2 - 2(1-x)) = \frac{1}{2} \pi (x^2 + 2x - 2)$$

(2) 由 $(1-R) + (1-r) > R+r$

$$\Rightarrow 2 - x > x$$

$$\Rightarrow 1 > x$$

$$\text{又 } x = R+r \geq 2\sqrt{Rr} = 2\sqrt{1-x}$$

$$\Rightarrow x^2 \geq 4(1-x)$$

$$\Rightarrow x^2 + 4x - 4 \geq 0$$

$$\Rightarrow x \geq 2\sqrt{2} - 2 \text{ 或 } x \leq -2\sqrt{2} - 2 \text{ (不合)}$$

$$\Rightarrow x \geq 2\sqrt{2} - 2$$

綜上得 $2\sqrt{2} - 2 \leq x < 1$

當 $x = 2\sqrt{2} - 2$ 時，

$$y = \frac{1}{2} \pi (x^2 + 2x - 2) = \frac{1}{2} \pi ((x+1)^2 - 3)$$

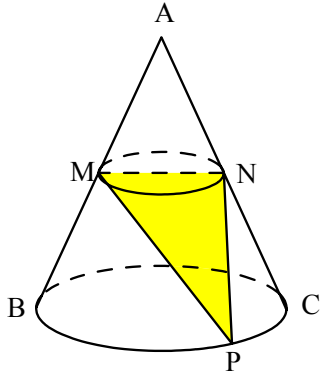
有最小值 $3 - 2\sqrt{2}$

解題評註：

本題主要利用商高定理求出關係，再利用算幾不等式求極值產生之處。

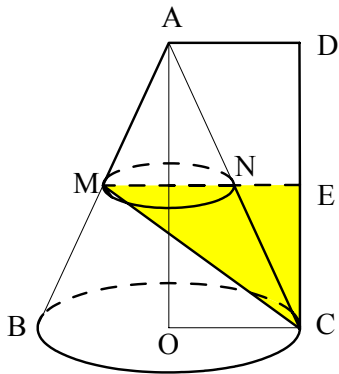
問題編號
4705

有一個圓錐體（如圖）， $\overline{AB} = 6$ 、底面的圓半徑為 2， M, N 分別是 \overline{AB} 與 \overline{AC} 的中點。其中 P 是底面圓周上的一個動點，求 (1) \overline{MP} 的最大值，(2) ΔMPN 面積的最大值。



參考解答：

設 O 為底面圓的圓心，
 $\overline{AD} \perp \overline{AO}, \overline{DC} \perp \overline{OC}, E$ 是 \overline{DC} 中點。



(1) 當 P 在 C 點上時 \overline{MP} 有最大值。

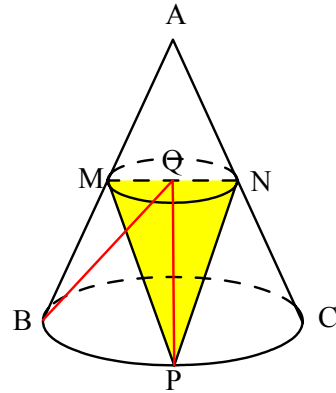
$$\overline{AO} = \sqrt{\overline{AC}^2 - \overline{OC}^2} = \sqrt{6^2 - 2^2} = 4\sqrt{2}$$

$$\overline{EC} = \frac{1}{2}\overline{DC} = \frac{1}{2}\overline{AO} = 2\sqrt{2}$$

$$\overline{ME} = \overline{MN} + \overline{NE} = \overline{OC} + \frac{1}{2}\overline{AD}$$

$$= \overline{OC} + \frac{1}{2}\overline{OC} = 2 + 1 = 3$$

$$\overline{MP} = \overline{MC} = \sqrt{\overline{ME}^2 + \overline{EC}^2} = \sqrt{9 + 8} = \sqrt{17}$$



(2) 當 P 在 \overline{BC} 上的中點時， ΔMPN 有最大

面積。設 Q 為 \overline{MN} 中點

$$\Rightarrow \overline{QP} = \overline{QB} = \sqrt{\overline{QO}^2 + \overline{BO}^2}$$

$$= \sqrt{(2\sqrt{2})^2 + 2^2} = \sqrt{12} = 2\sqrt{3}$$

$$\Rightarrow \Delta MPN = \frac{1}{2}\overline{MN} \times \overline{QP}$$

$$= \frac{1}{2} \times 2 \times 2\sqrt{3} = 2\sqrt{3}$$

解題評註：

本題屬於空間幾何的題目類型，重點在如何掌握動點的位置。